


Terminale Spécialité Physique-Chimie	Thème : Ondes et signaux	M.KUNST-MEDICA					
<b>Chapitre 14 : La lumière : un flux de photons</b>							
<b>Feuille d'évaluation à rendre obligatoirement avec la copie</b>							
<b>Activité documentaire n°14.1 : Une expérience historique.</b>							
Questions		Compétence visée	Niveaux validés				Points attribués
			A	B	C	D	
Appel n°1		<b>S'approprier</b>					/0,5 /0,5
Appel n°2		<b>Raisonner. analyser</b>					/0,5 /0,5
Appel n°3		<b>Réaliser, valider</b>					/0,5 /0,5 /0,5
Appel n°4		<b>S'approprier</b>					/0,5 /0,5
Devoir global	Rendre compte à l'écrit en utilisant un vocabulaire scientifique adapté et présenter son travail sous une forme appropriée et être vigilant vis-à-vis de l'orthographe	<b>Communiquer</b>					/0,25
<b>Total 1 :</b>	<b>Remarques :</b>		<b>/4,75</b>				

**Niveau A :** le candidat a réalisé une communication cohérente complète avec un vocabulaire scientifique adapté.  
**Niveau B :** le candidat a réalisé une communication cohérente, incomplète mais il l'a exprimée pour l'essentiel avec un vocabulaire scientifique adapté.  
**Niveau C :** le candidat a réalisé une communication manquant de cohérence, incomplète ou avec un vocabulaire scientifique mal adapté.  
**Niveau D :** le candidat a réalisé une communication incohérente ou absente.

### Notation individuelle :

CLASSE :		NOMS – PRENOMS des élèves du groupe		Élève n° 1 :		Élève n° 2 :		Élève n° 3 :	
				.....		.....		.....	
				.....		.....		.....	
Activité	Capacités attendues	Compétence visée	Points attribués	Signatures	Points attribués	Signatures	Points attribués	Signatures	
Séance en groupe	Travailler en équipe, partager des tâches, s'engager dans un dialogue constructif, respecter ses camarades, son professeur et les lieux de travail ...	<b>Être autonome et faire preuve d'initiative</b>	/0,25		/0,25		/0,25		
<b>TOTAL 2</b>			/0,25		/0,25		/0,25		
<b>Total 1 + 2</b>			/5		/5		/5		

**Au début du XX<sup>e</sup> siècle, il est solidement établi que la lumière est une onde, bien que quelques observations ne soient expliquées. Pour interpréter l'effet photoélectrique, Albert Einstein fait en 1905 l'hypothèse révolutionnaire que la lumière est un flux de particules, mais le monde scientifique n'est pas convaincu.**

**Comment l'expérience historique de Robert Millikan confirme-t-elle en 1915 l'hypothèse d'Einstein ?**

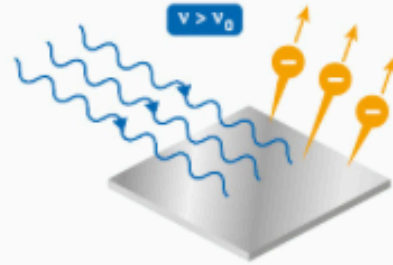
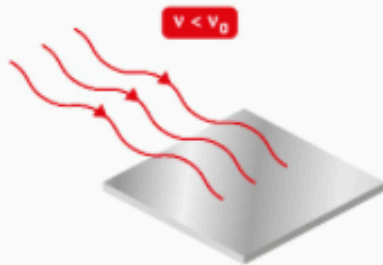
### DOC. 1 Effet photoélectrique

■ Lorsqu'un métal est exposé à une lumière du domaine ultraviolet ou visible, des électrons peuvent être éjectés du métal grâce à l'énergie lumineuse reçue. On les nomme « photoélectrons ».

■ L'effet photoélectrique ne dépend pas de la puissance du faisceau lumineux. Il se produit dès que le métal est éclairé (pas de délai) à condition que la

fréquence  $\nu$  du rayonnement soit supérieure à une « **fréquence seuil** »  $\nu_0$  caractéristique du métal. Si  $\nu$  est inférieure à  $\nu_0$ , aucun électron n'est éjecté de la surface du métal, même pour un faisceau lumineux de forte puissance et pour une durée d'éclairement élevée.

■ Ces observations auront une importance capitale dans la compréhension de la nature de la lumière.



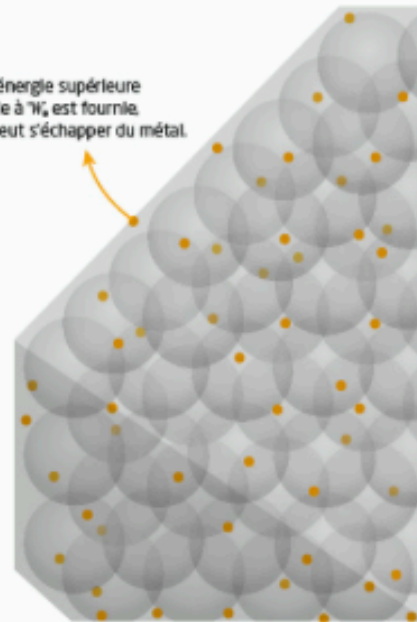
### DOC. 2 Echec du modèle ondulatoire

■ Telle une onde à la surface de l'eau qui transmet de l'énergie à une bouée en la mettant en mouvement, l'énergie d'une onde lumineuse est transmise de manière **continue** à la matière.

■ D'après la conception ondulatoire de la lumière admise au début de  $xx^e$  siècle, un électron du métal devrait absorber et accumuler de l'énergie transférée par la lumière, proportionnellement à la puissance lumineuse et à la durée de l'éclairement, jusqu'à être éjecté.


■ En effet, certains des électrons présents dans un métal peuvent s'y déplacer mais sont retenus dans le métal. Pour qu'un électron puisse franchir la surface du métal, il faut fournir au système {électron ; métal} une énergie minimale  $W_e$ , appelée « **travail d'extraction** » du métal.

Si une énergie supérieure ou égale à  $W_e$  est fournie, un électron peut s'échapper du métal.



### DOC. 3 Hypothèse d'Einstein

■ En 1905, Albert Einstein suppose que la lumière est constituée de **quanta**, plus tard nommés **photons**. Pour que l'effet photoélectrique se produise, l'énergie d'un photon incident doit au moins être égale au travail d'extraction. Dans ce cas le photon est absorbé, il transfère la totalité de son énergie, et un seul électron est éjecté. Lorsque l'énergie du photon incident est supérieure au travail d'extraction, l'excès d'énergie est transféré sous forme d'énergie cinétique à l'électron émis.

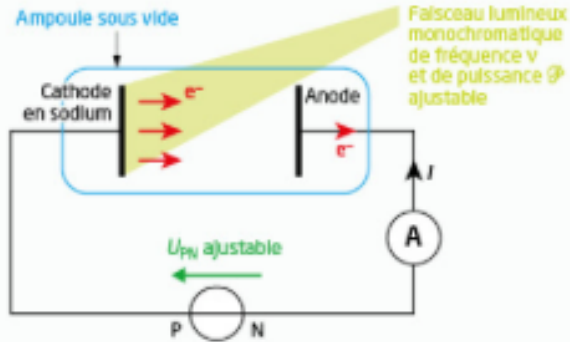


■ Dans son autobiographie, Robert Millikan écrit : « J'ai passé dix ans de ma vie à vérifier expérimentalement l'équation trouvée par Einstein en 1905, et contrairement à toutes mes prévisions, je fus contraint, en 1915, d'affirmer que sa confirmation était indiscutable en dépit de son caractère déraisonnable, car elle semblait contredire tout ce que nous savions sur les interférences lumineuses. ».

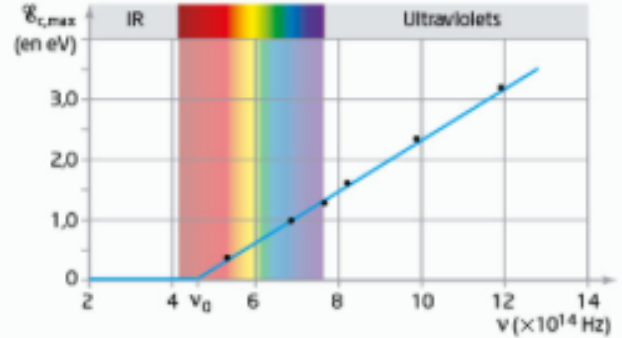


**DOC. 4** Schéma du principe de l'expérience de Millikan et résultats (1915)

■ La mesure de l'intensité  $I$  du courant électrique permet d'estimer le nombre d'électrons émis par la cathode lorsqu'elle est éclairée. L'énergie cinétique maximale  $\mathcal{E}_{c,max}$  des électrons est déterminée en mesurant la tension  $U_{PN}$  au-delà de laquelle aucun courant électrique ne passe plus.



■ Pour une fréquence donnée, on observe qu'il n'y a qu'une seule valeur de  $\mathcal{E}_{c,max}$ , quelle que soit la puissance  $\mathcal{P}$  du faisceau lumineux.



**Questions :**

1. **Présenter** l'effet photoélectrique et **indiquer** pour quel type de lumière il se manifeste.

.....

.....

.....

.....

.....

.....

.....

.....

.....

.....

.....

2. **Rappeler** l'hypothèse d'Einstein concernant l'expression (étudiée en classe de 1<sup>ère</sup>) d'un quantum d'énergie transporté par la lumière.

.....

.....

.....

.....

.....

.....

.....

.....

.....

.....

.....

**Appel n°1 du professeur pour validation**



